

Orden 3152/2016, de 28 de septiembre, de la Consejería de Presidencia,
Justicia y Portavocía del Gobierno. Comunidad de Madrid.

Pruebas selectivas para el ingreso en el Cuerpo de Agentes Forestales,
Escala Operativa, Categoría de Agente Forestal, de Administración
Especial, Grupo C, Subgrupo C1, de la Comunidad de Madrid

Segundo ejercicio: caso práctico (60% de la nota)

En una comarca de la Comunidad de Madrid, se localiza una finca privada de uso forestal y ganadero de nombre "La Ponderosa". Dicha finca está ubicada dentro de los límites de la ZEPA "Alto Lozoya" y de la ZEC "Cuenca del río Lozoya y Sierra Norte".

La finca presenta las siguientes características:

- 1) Superficie: 1678 ha.
- 2) Existen en ella especies de flora y fauna protegidas.
- 3) Es coto privado de caza mayor y menor.
- 4) Una vía pecuaria la atraviesa de este a oeste.
- 5) En su parte más occidental discurre un río pescable.
- 6) La mayor parte de la superficie de la finca está ocupada por un pinar de pino silvestre y varios prados de siega.
- 7) Existe una explotación apícola.

Con esta información, contestar a las siguientes preguntas:

1 Pregunta

En la finca existen 3 casamatas de la Guerra Civil española que van a ser restauradas con financiación a cargo de la Comunidad de Madrid.

¿Qué obligaciones tendrá el propietario y qué tendrá que supervisar el agente forestal de la zona? Hacer referencia a la legislación pertinente.

2 Pregunta

El propietario quiere promover un nuevo negocio de rutas a caballo en la finca, para lo que necesita construir 16 cuadras de caballos, afectando a 15 ha de la finca. Pretende realizar una toma de agua del manantial que surte a una fuente con abrevadero construida en 1913, captando 1000 m³ de agua/año para el servicio de las cuadras. El emplazamiento dista 10 metros de la vía pecuaria.

- a) ¿Tiene que someter el proyecto a algún procedimiento de evaluación ambiental? Razone la respuesta.
- b) ¿Qué legislación afecta al proyecto?

3 Pregunta

Colindando con la vía pecuaria que atraviesa la finca se observa que se han instalado unas colmenas estantes de abejas. El titular de las colmenas informa de que tiene el domicilio fiscal en la Comunidad de Madrid.

- a) ¿En qué Registro está obligado el propietario a tenerlas inscritas?
- b) ¿Qué distancia mínima debe respetar el asentamiento apícola respecto a la vía pecuaria?

4 Pregunta

Desde la Jefatura del Cuerpo de Agentes Forestales nos solicitan informe sobre la realización de una prueba deportiva el 2 de mayo en la que participarán 150 corredores. Dicha prueba discurre a menos de 150 m de un nido de cigüeña negra existente en la finca.

¿El informe será favorable o desfavorable? Razonar brevemente la respuesta.

5 Pregunta

Se observa que en la explotación apícola se están realizando labores con un ahumador apícola.

- a) Enumere las medidas preventivas que se deben cumplir.
- b) Indique el requisito administrativo necesario para la realización de estas labores.

6 Pregunta

Teniendo asignado el trabajo de responder a las alertas por animales silvestres heridos, escriba qué caracteres morfológicos de los siguientes animales son más peligrosos a la hora de su captura y manejo.

| | |
|---|--|
| Cigüeña común (<i>Ciconia ciconia</i>) | |
| Búho real (<i>Bubo bubo</i>) | |
| Corza (<i>Capreolus capreolus</i>) | |
| Garduña (<i>Martes foina</i>) | |
| Ardilla común (<i>Sciurus vulgaris</i>) | |
| Salamandra (<i>Salamandra salamandra</i>) | |

7 Pregunta

Haciendo una inspección de pesca en el río que discurre por la finca se localiza un pescador con las siguientes capturas:

| Especie | Ejemplares | Dimensión (cm) |
|---|------------|----------------|
| Barbo comizo (<i>Barbus comizo</i>) | 9 | 18 |
| Boga de río (<i>Chondrostoma polylepis</i>) | 6 | 8 |
| Carpín (<i>Carassius spp</i>) | 20 | 11 |
| Gobio (<i>Gobio gobio</i>) | 8 | 8 |

- a) ¿Hay alguna actuación denunciabile? Razone la respuesta.
- b) En ese caso, indicar cuál sería el valor por ejemplar de las indemnizaciones por daños y perjuicios derivados de la comisión de delitos, faltas e infracciones administrativas sobre las especies de la fauna acuícola en la Comunidad de Madrid.

8 Pregunta

En la ZEPA donde está incluida la finca existe un humedal catalogado.

- a) Indique su nombre.
- b) Indique las figuras de protección en las que está incluido.
- c) Cite los nombres de cuatro charcas o lagunas incluidas en el humedal.

Orden 3152/2016, de 28 de septiembre, de la
Consejería de Presidencia, Justicia y Portavocía del
Gobierno. Comunidad de Madrid.

Pruebas selectivas para el ingreso en el Cuerpo de
Agentes Forestales, Escala Operativa, Categoría de
Agente Forestal, de Administración Especial, Grupo C,
Subgrupo C1, de la Comunidad de Madrid

Segundo ejercicio: Reconocimiento de muestras (40%
de la nota)



1) Identificar el dispositivo y explicar brevemente su funcionamiento



2) ¿Qué es y por qué aparece?



3) Identificar el equipo y explicar brevemente su función



4) ¿Qué medio de extinción se observa en la fotografía? ¿Quién realiza las indicaciones para la actuación de este medio en extinción?



5) ¿Qué es? Si conoce el responsable de lo observado en la fotografía, que puede constituir una infracción, enuncie la presunta infracción y la Ley donde se tipifica.



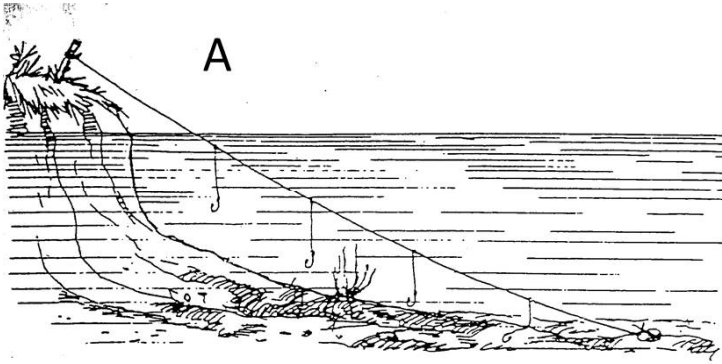
6) Identificar la especie (nombre común y científico). Indicar la modalidad de caza permitida según la Orden de Veda anual 2017/18.



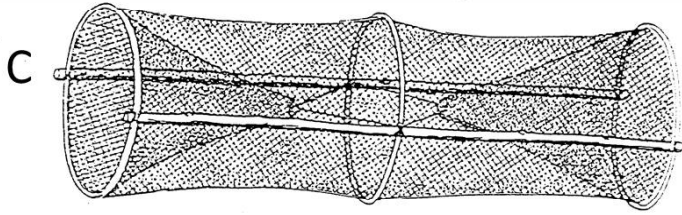
7) Identificar la especie (nombre común y científico)
Nombre las ZEPAS de la Comunidad de Madrid, en las que esta especie está incluida por ser área clave para su conservación



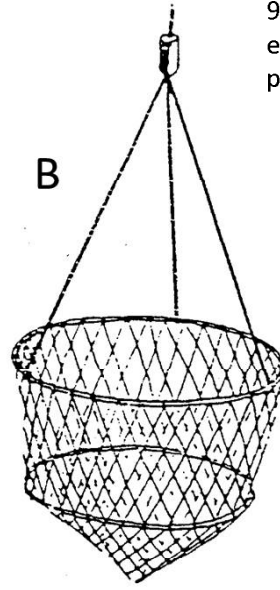
8) ¿Qué es? ¿Está bien colocada? ¿Cuál es la distancia máxima entre este tipo de señales?



A



C



B

9) Nombrar las distintas artes y especificar cuáles están permitidas y para qué en la Comunidad de Madrid .



10) Identificar la especie (nombre común y científico). Si un ejemplar macho de esta especie fuera capturado legalmente en agosto, ¿sería correcto ponerle una anilla roja metalizada?



11) ¿La ejecución de estos cortes de la poda de un pino es correcta? Razone la respuesta.



12) Identificar la especie arbórea (nombre común y nombre científico) e indicar el aprovechamiento tradicional por el que adquiere esa forma característica



13) Indicar el nombre del apero y explicar brevemente su función



14) Identificar el siguiente utensilio y explicar su uso brevemente



15) Identificar la especie (nombre común y nombre científico). ¿En qué Catálogo está incluida?



16) a- ¿Qué munición de las indicadas en la fotografía puede producir un agujero como el que se observa en la señal de tráfico?

b- ¿Cuál es la zona de seguridad en carreteras locales? ¿A qué distancia se puede usar un arma de fuego?



17) Identificar la especie (nombre común y científico)



18) Identificar el ecosistema madrileño representado en la imagen y enumerar 3 especies vegetales y 3 especies animales características del mismo.



19) Identificar la especie (nombre común y nombre científico). Citar una figura de protección que comprenda masas de esta especie en la Comunidad de Madrid



20) Identificar la especie (nombre común y nombre científico). ¿Cuál ha sido el aprovechamiento más habitual de estas masas en la Comunidad de Madrid?